

uitwerkbijlage

Naam kandidaat _____ Kandidaatnummer _____

Scheepslift

10 Zet in de tabel in elke rij één kruisje in de juiste kolom.

	blijft gelijk	wordt groter	wordt kleiner
de zwaartekracht op de bak			
de arm van de bak			
het moment van de bak			

Violist

15 Omcirkel in de zin de juiste mogelijkheden.

Bij een afname van het geluidsniveau

neemt de

amplitude	trillingstijd
------------------	----------------------

 van de toon

af	toe
-----------	------------

 .

17 Omcirkel in de zin de juiste mogelijkheid.

Het gehoor van de violist

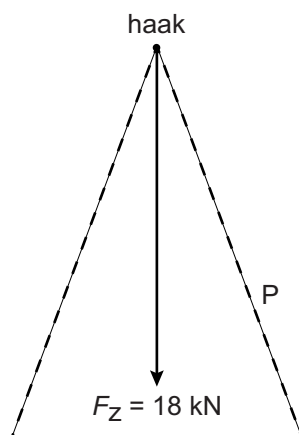
is

beter dan gemiddeld
gelijk aan het gemiddelde
slechter dan gemiddeld

 bij een leeftijd van 50 jaar.

Jacuzzi plaatsen

- 21 Bepaal met een constructie de grootte van de kracht langs **P** vanuit de haak. Vul de grootte van de kracht in onder de afbeelding.



$F_P = \dots\dots \text{ kN}$

- 22 Omcirkel in elke zin de juiste mogelijkheid.

Na het inkorten van de banden

is de kracht in de staalkabel even groot groter kleiner en

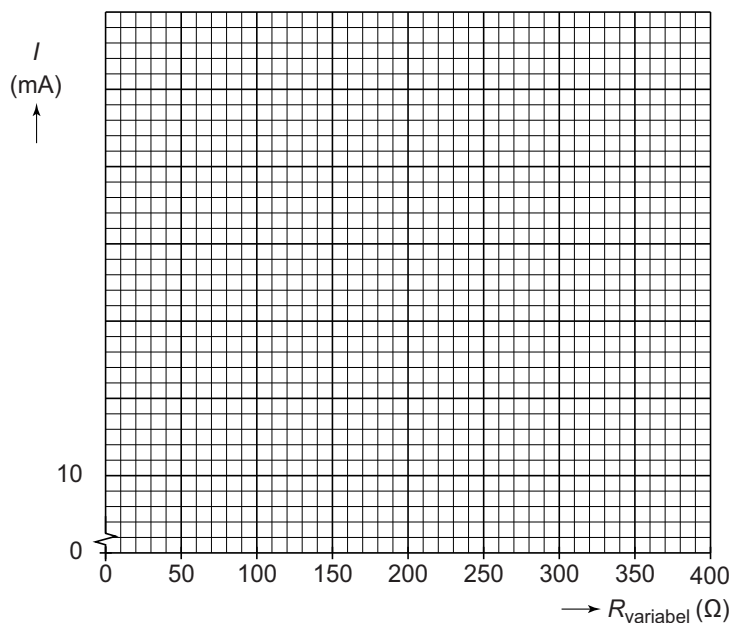
is de kracht in de banden even groot groter kleiner .

Elektriciteitsproef

- 25 Zet in de tabel achter elke meter een kruisje bij de plaats(en) waar Ryan de juiste metingen kan doen.

	1	2	3	4	5
spanningsmeter					
stroommeter					

29 Zet in het diagram alle meetpunten uit en teken de grafiek.



Koken op gas

33 Noteer naast de afbeelding de fase van het propaan in elk deel van de fles.



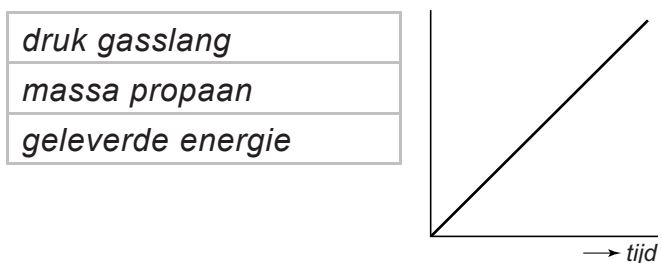
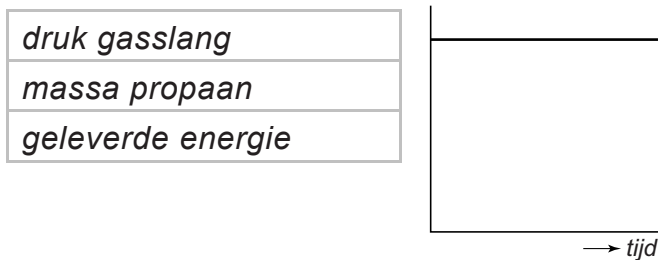
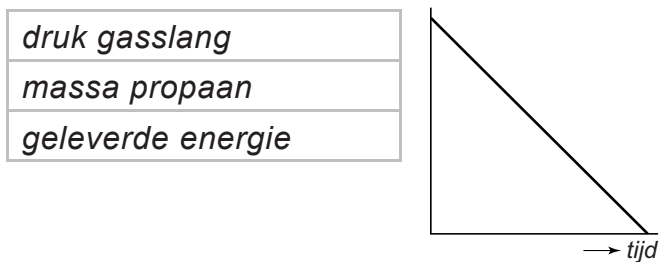
34 Omcirkel in de zin de juiste mogelijkheid.

Als je de gaskraan opendraait

condenseert
rijpt
stolt
sublimeert
verdamppt

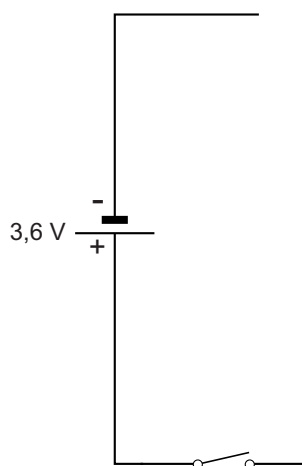
het propaan in de fles.

35 Omcirkel bij elk diagram de juiste grootheid bij de verticale as.


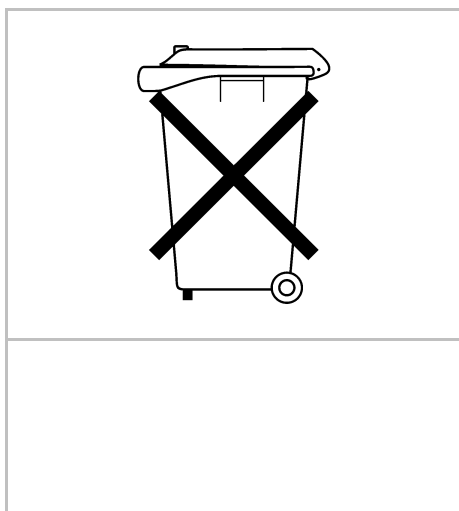


Zaklampje

41 Maak het schakelschema compleet met de twee leds.



44 Noteer onder elk pictogram de juiste betekenis.



VERGEET NIET DEZE UITWERKBIJLAGE IN TE LEVEREN